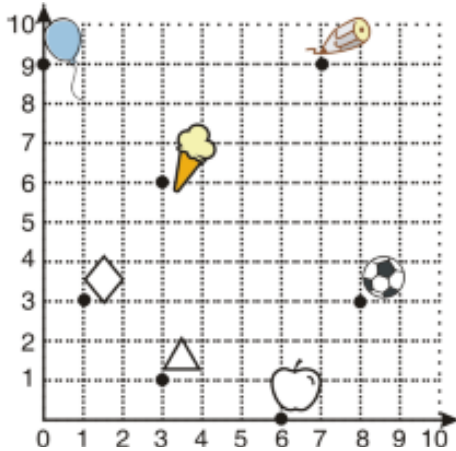


GEOMETRÍA

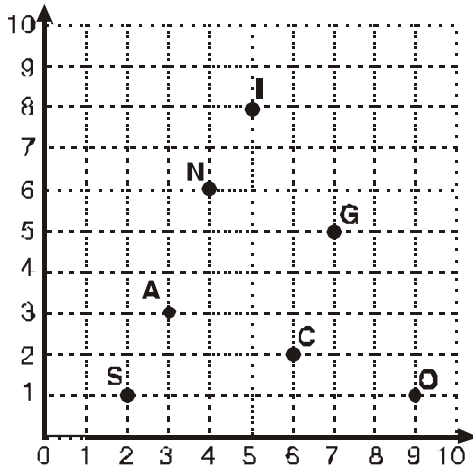
3º primaria

ESCRIBE las coordenadas de los siguientes objetos:



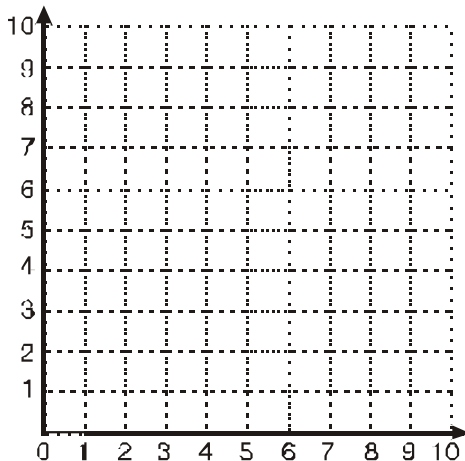
- lápiz → _____
- helado → _____
- globo → _____
- pelota → _____
- manzana → _____
- triángulo → _____
- rombo → _____

ESCRIBE las coordenadas de los siguientes puntos:



- S (;)
- O (;)
- C (;)
- A (;)
- N (;)
- G (;)
- I (;)


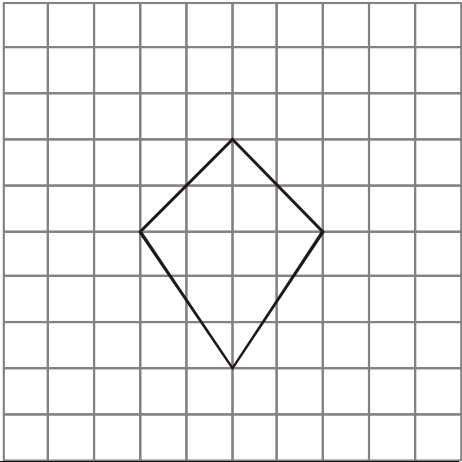

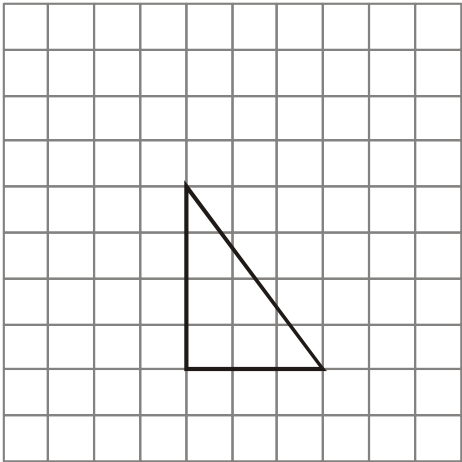

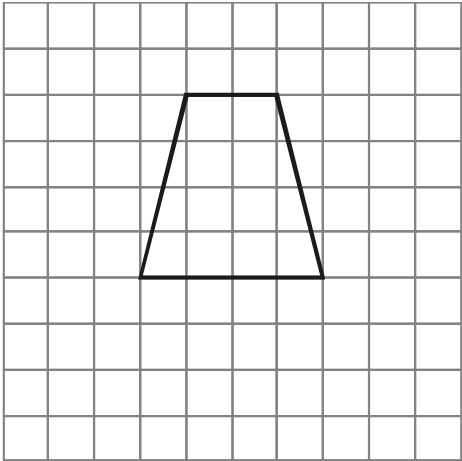
UBICA los siguientes puntos en la cuadrícula:



- A (2; 2)
- B (6; 2)
- C (6; 5)
- D (2; 5)
- E (5; 6)
- F (10; 6)
- G (7; 10)

AMPLIAMOS FIGURAS

REPRODUCE las siguientes figuras, ampliando cada uno de sus lados al doble.



A REDUCIR FIGURAS

REPRODUCE las siguientes figuras, reduciendo a la mitad cada uno de sus lados.

