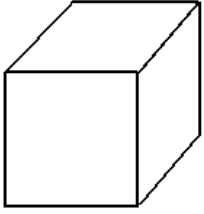


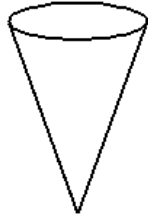
CUERPOS GEOMÉTRICOS

3º primaria


ESFERA, CUBO, CONO, CILINDRO



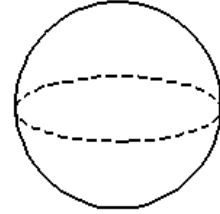
Cubo



Cono



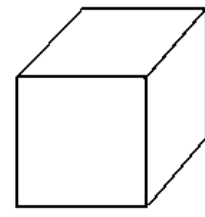
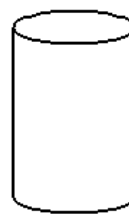
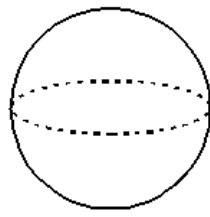
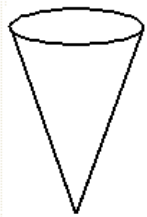
Cilindro



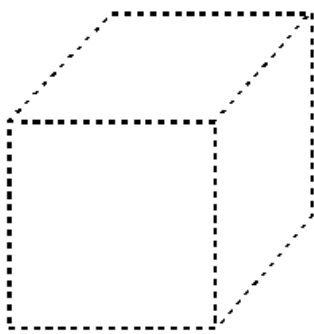
Esfera

ACTIVIDAD

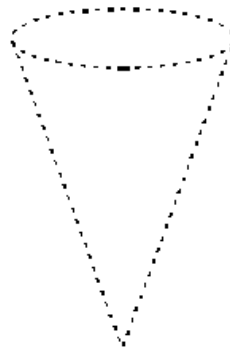
PINTA de color azul el cono, de color verde el cilindro, de rojo el cubo y de amarillo la esfera.



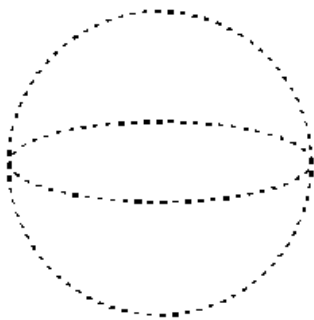
REPASA las figuras y completa.




Es un _____



Es un _____



Es un



Es un _____

En el parque se observan objetos diferentes. Unos tienen partes planas y otros no.



Tiene forma de prisma.



Tiene forma de _____



Tiene forma de _____



Tiene forma de _____

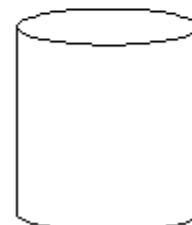
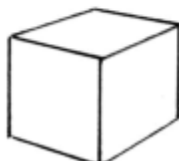
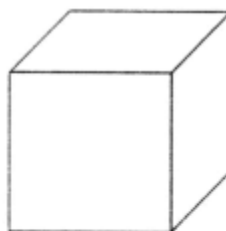


Tiene forma de _____

¿A qué cuerpo geométrico se parecen?



UNE con flechas las figuras semejantes por su forma y COLOREA.



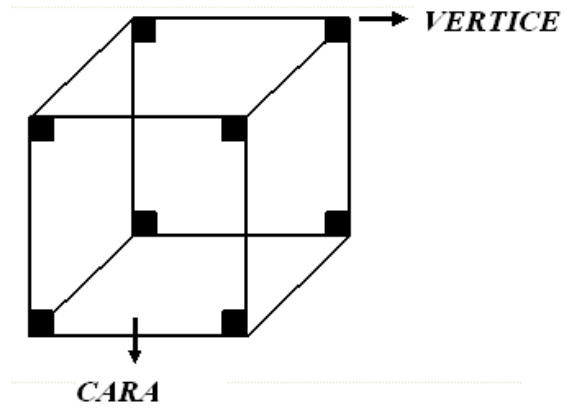
Los dados tienen forma de cubo.

Cuenta las caras que tiene un cubo.

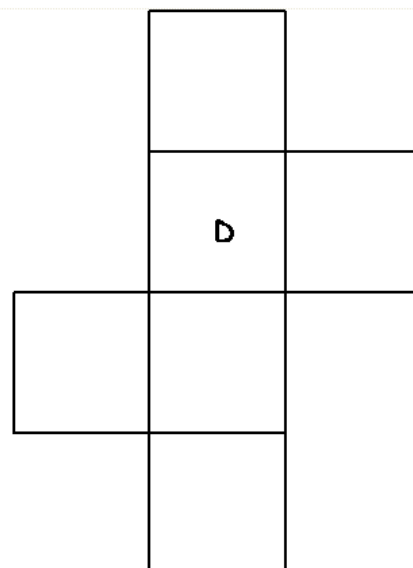
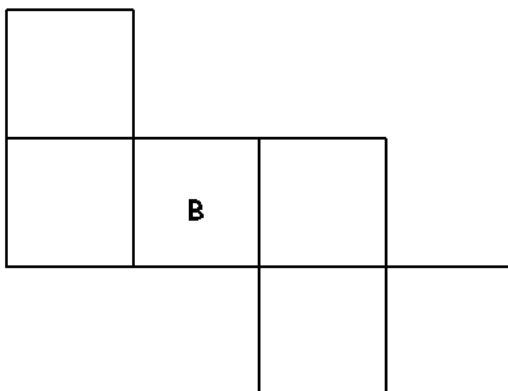
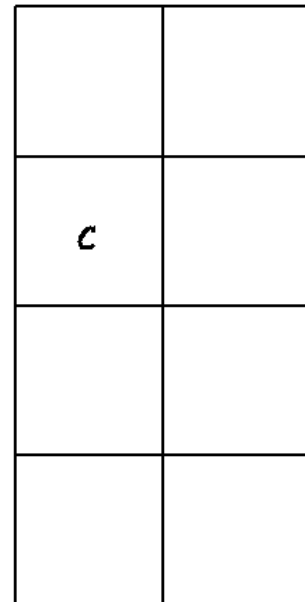
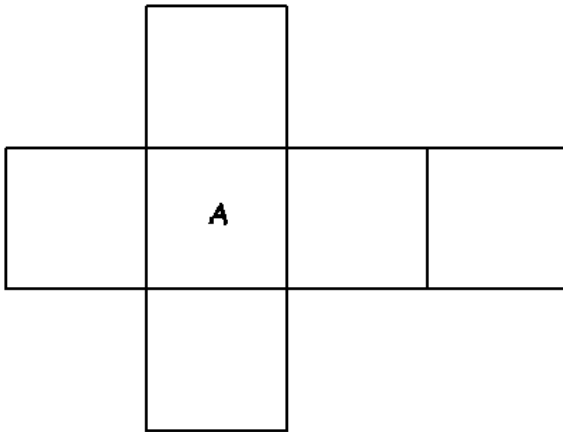
Cuenta las esquinas que tiene un cubo.

El cubo tiene _____ caras.

El cubo tiene _____ vértices.



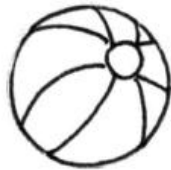


REPRODUCIR estos moldes para construir cubos.



¿Con cuál molde anterior no puedes cerrar el cubo?

PINTA los objetos que tengan forma de esfera.



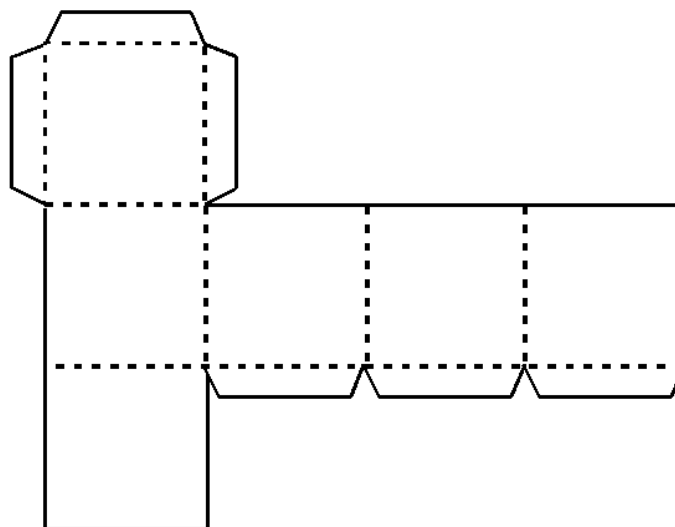
ESCRIBE el nombre de tres objetos que tengan forma de cubo.

ESCRIBE el nombre de los cuerpos geométricos que representan los objetos.



HÁGALO USTED MISMO

DIBUJA en una cartulina esta figura. **DOBLA** por las líneas punteadas y **PEGA** por las pestañas.



El cuerpo obtenido es un _____