

LA UNIDAD DE TIEMPO

1° PRIMARIA

LOS DÍAS DE LA SEMANA

Una semana tiene 7 días.

ESCRIBE en cada globo los días de la semana y **COLOREO**.



RESPONDE las siguientes preguntas.

A) ¿Qué días voy al colegio?

B) ¿Qué días me quedo en la casa?


C) ¿Qué días cantas el Himno Nacional?

D) ¿Qué día es tu clase de computación?

LOS MESES DEL AÑO

Un año tiene 12 meses.

* **COMPLETA** los meses del año en los cometas. **COLOREA**.









* **COMPLETA** con el mes correspondiente.

- A) Mes de la madre : _____
 - B) Mes de la Patria : _____
 - C) Mes de la primavera : _____
 - D) Mes de la Navidad : _____
-

EL USO DEL RELOJ

* COLOREA el reloj digital que marca la misma hora del reloj con manecillas.

	<input type="checkbox"/> 1:25		<input type="checkbox"/> 8:05
	<input type="checkbox"/> 1:30		<input type="checkbox"/> 12:00
	<input type="checkbox"/> 6:10		<input type="checkbox"/> 8:00
	<input type="checkbox"/> 7:55		<input type="checkbox"/> 4:30
	<input type="checkbox"/> 11:35		<input type="checkbox"/> 4:04
	<input type="checkbox"/> 11:30		<input type="checkbox"/> 4:00
	<input type="checkbox"/> 6:15		<input type="checkbox"/> 2:00
	<input type="checkbox"/> 3:30		<input type="checkbox"/> 6:15
	<input type="checkbox"/> 6:30		<input type="checkbox"/> 6:03

* DIBUJA las horas que se indican en cada reloj.

<input type="checkbox"/> 5:30	<input type="checkbox"/> 7:30	<input type="checkbox"/> 3:30
		